

Задания по истории Древнего мира для 5 класса .

№ 1.



А.



Б.



В.

Расположите буквы в следующем порядке: гражданин, метек, раб.


№ 2.



А.



Б.



В.

Назовите римских императоров.

№ 3.



А.



Б.



В.

Какие из показанных художественных произведений были обнаружены на о. Крит.

№ 4.




**Какому событию Греко-персидских войн посвящен показанный здесь памятник.  
Расскажите о нем.**

№ 5.



По вашему мнению, какой из показанных выше кораблей является военным, а какой торговым. Свою позицию объясните.

№ 6.



Какое событие иллюстрирует данный рисунок. При каком императоре могло это событие произойти.

№ 7.




№8. 1.



2.

Какие архитектурные сооружения показаны на рисунках? Во время правления, какого императора они были построены?

№ 9.



Какой орган управления Римской республикой изображен на данном рисунке.

№ 10.




Назовите изображенное на рисунке сооружение. Какая легенда с ним связана.

№ 11.



Какой тип исторического источника изображен на рисунках? Что дает нам изучение данного вида источников?

№ 12.



Рассмотрев рисунок, расскажите о жизни первого предка человека.

№ 13.



Какой вид охоты изображен на рисунке? В чем состояла опасность такой охоты?

№ 14.



На рисунке вы видите амулеты, которые древние люди вешали себе на шею. Зачем они это делали?


№ 15



Рассмотрите рисунок и ответьте на вопрос: какое событие на нем изображено?  
Почему вы так решили?

№ 16.





Какое событие из жизни крестьян изображено на рисунке?

№ 17.



Какой процесс изображен на рисунке? В маске какого бога находится жрец? Почему?

№ 18.



**Скульптуры, каких существ, здесь изображены? Где в Египте они находились?**